



۱ در یک زنجیره غذایی نخستین و آخرین حلقه را چه موجوداتی تشکیل می‌دهند؟

- ۱ تولیدکنندگان - تجزیه‌کنندگان
۲ علفخواران - باکتری‌ها
۳ گوشتخواران - مخمرها
۴ تولیدکنندگان - مصرف‌کنندگان

۲ بیش‌ترین جمعیت ایران باستان را چه کسانی تشکیل می‌دادند؟

- ۱ اشراف
۲ مأموران حکومتی
۳ صنعت‌گران
۴ کشاورزان

۳ کدام گزینه، هر دو نام اسطوره‌های ایران باستان هستند؟

- ۱ رستم، هرودوت
۲ جمشید، گردآفرید
۳ یشت، سهراب
۴ سیاوش، اوستا

۴ کدام گزینه درباره‌ی میراث فرهنگی درست است؟

- ۱ میراث فرهنگی جزو میراث زیستی جهانی به شمار می‌روند.
۲ میراث فرهنگی جزو میراث جهانی به حساب می‌آیند.
۳ برخی بناهای تاریخی جزو میراث جهانی هستند.
۴ میراث فرهنگی مادی جزو میراث جهانی هستند.

۵ مسئولیت سرشماری جمعیت در شهرها با و در روستاها با است.

- ۱ شورای شهر، شورای اسلامی روستا
۲ شهرداری، شورای اسلامی روستا
۳ وزارت کشور، وزارت کشور
۴ مرکز آمار، مرکز آمار

۶ کدام زباله نسبت به بقیه خطرناک‌تر است؟

- ۱ شیشه
۲ کاغذ
۳ باتری
۴ قوطی فلزی

۷ روستاها توسط اداره می‌شوند و این افراد باتجربه و مورد اعتماد از طریق انتخاب می‌شوند.

- ۱ شورای شهر - رأی شهردار
۲ شورای اسلامی روستا - رأی نمایندگان مجلس
۳ استاندار - رأی مردم
۴ شورای اسلامی روستا و دهیار - رأی مردم

۸ نقشه‌ای به مقیاس یک به صدوپنجاههزار، فاصله بین دو نقطه را که در واقعیت شش کیلومتر با هم فاصله دارند، چند سانتی‌متر نشان می‌دهد؟

- ۱ ۹۰
۲ ۹
۳ ۴۰
۴ ۴

۹

دو عبارت زیر به ترتیب کدام رشته کوه و کدام قله را معرفی می‌کند؟
الف- هم‌چون دیواری دریای خزر را از نواحی مرکزی ایران جدا کرده است.
ب- از کوه‌های پراکنده ایران است که در استان سیستان و بلوچستان واقع شده است.

- ۱ البرز، دماوند
- ۲ زاگرس، دماوند
- ۳ زاگرس، تفتان
- ۴ البرز، تفتان

۱۰

فاصله بین دو نقطه روی نقشه‌ای به مقیاس یک به دوپنجاههزار، دو سانتی‌متر است. فاصله این دو نقطه در واقعیت چند کیلومتر است؟

- ۱ ۱۲/۵
- ۲ ۱/۲۵
- ۳ ۵۰
- ۴ ۵

۱۱

کدام فرد دچار مصرف‌گرایی شده است؟

- ۱ شخصی که سه‌بار در هفته اخیر شلوار خریده است، چون شلوارهایی که خریده پاره شده بودند.
- ۲ شخصی که سه‌بار در یک سال اخیر گوشی تلفن خریده است با این‌که گوشی‌های قبلی کاملاً سالمند.
- ۳ شخصی که برای کمک به اقتصاد خانواده، مدت‌هاست به‌جای تاکسی از اتوبوس برای عبور و مرور استفاده می‌کند.
- ۴ شخصی که برای کاهش مصرف سوخت خودرویش، خودروی قدیمی خود را با خودرویی جدیدتر عوض کرده است.

۱۲

کدام‌یک از اطلاعات زیر را بر روی برجسب مشخصات کالا نمی‌توان دید؟

- ۱ آدرس کارخانه
- ۲ قیمت کالا
- ۳ فرایند تولید
- ۴ مواد به‌کار رفته

۱۳

با درنظر گرفتن عامل رطوبت، کدام‌یک از دو منطقه زیر دارای ویژگی مشترک هستند؟

- ۱ شرق زاگرس - کوه‌های جنوب البرز
- ۲ شمال البرز - کوه‌های خراسان
- ۳ کوه‌های آذربایجان - کوه‌های مرکزی
- ۴ کوه‌های جنوب شرقی - کوه‌های شمال غربی زاگرس

۱۴

رابطه‌ی کدام گزینه نادرست است؟

- ۱ تابستان‌ها و زمستان‌های معتدل ← معتدل و مرطوب خزری
- ۲ تابستان‌های گرم و خشک ← گرم و خشک داخلی
- ۳ زمستان‌های سرد و تابستان‌های معتدل ← معتدل و نیمه‌خشک کوهستانی
- ۴ تابستان‌های معتدل و زمستان‌های ملایم ← گرم و شرعی سواحل جنوب

۱۵

طبق شواهد و مدارک به دست آمده پوشاک ایرانیان باستان چگونه بوده است؟ (۱ نمره)

۱۶

ایرانیان با توجه به شرایط آب و هوایی که در منطقه آن‌ها بود، خانه‌های خود را از سنگ، چوب و خشت می‌ساختند.
(صحیح) - (غلط)

۱۷

از جمله صنایع هنری که از عصر اشکانیان به جا مانده است، چند مورد را نام ببرید.

۱۸

کتیبه‌های به خط میخی متعلق به دوره و کتیبه‌های به خط پهلوی متعلق به دوره هستند.

در دوره اشکانیان و ساسانیان خط میخی رایج بوده است.

(صحیح) - (غلط)

در دوره اشکانیان و ساسانیان چه خط و زبانی رایج بوده است؟

پس از اقتباس خط میخی از اقوام بین‌النهرین ایرانیان چه کردند؟

در زمان هخامنشیان، ایرانیان خط ایلامی را از اقوام بین‌النهرین اقتباس کردند. (صحیح) - (غلط)

سنگ‌نگاره زیر چه چیزی که در ایران باستان برای مردم اهمیت داشته است را بیان می‌کند؟



تیرنگاره زن ایلامی در حال نخ‌ریسی

هرودوت نوشته است: ایرانیان به فرزندان خود سه چیز را می‌آموزند: ۱- سوارکاری ۲- تیراندازی ۳- کشتی (صحیح) - (غلط)

در عهد باستان مردم شاد زیستن را یک می‌دانستند.

برخی مورخان معتقدند که در دوره ایران باستان، بعضی مواد غذایی مانند روغن زیتون از هند و ادویه از یونان به ایران وارد می‌شده است. (صحیح) - (غلط)

چگونه با ضرب سکه تجارت رونق پیدا کرد؟

ساختن اسباب و اثاثیه منزل، شمشیر، ابزارهای کشاورزی و ابزارهای جنگی مثل بازوبند و زره و نظایر آنها از مشاغل کدام دوره بوده است؟

لباس و تجهیزات سواره نظام و پیاده نظام چه تفاوتی داشته باشد؟

مقبره شاعران جزء است.

۳۱ کدام گزینه جزء آثار فرهنگی غیرمادی نیست؟

- ۱ اعتقادات ۲ زبان ۳ آداب و رسوم ۴ امامزاده‌ها

۳۲ چرخه آب را روی شکل توضیح دهید.

۳۳ کدام مورد فرمول محاسبه تراکم جمعیت می‌باشد؟

۱
$$\text{تراکم جمعیت} = \frac{\text{جمعیت}}{\text{مساحت}}$$

۲
$$\text{تراکم جمعیت} = \frac{\text{مساحت}}{\text{جمعیت}}$$

۳
$$\text{تراکم جمعیت} = \frac{\text{مساحت}}{\text{جمعیت}} \times 100$$

۴
$$\text{تراکم جمعیت} = \frac{\text{جمعیت}}{\text{مساحت}} \times 100$$

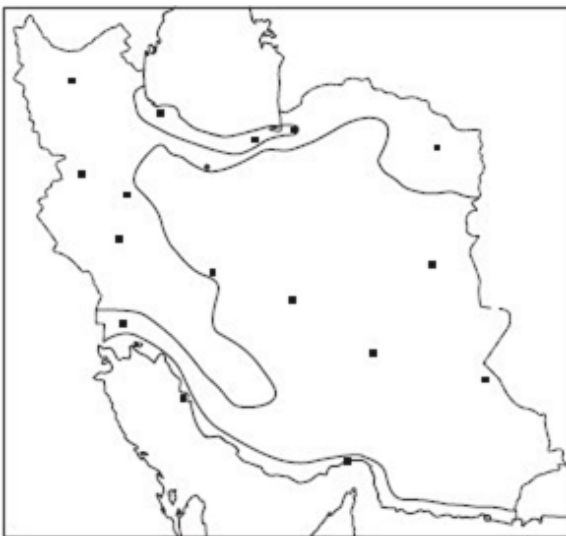
۳۴ اصل ۵۰ قانون اساسی در مورد چه چیزی است؟

- ۱ حفاظت از محیط زیست وظیفه عمومی است.
۲ حفاظت از محیط زیست فقط وظیفه سازمان محیط زیست است.
۳ در منطقه حفاظت شده شکار و صید یا قطع درختان و از بین بردن گیاهان ممنوع نیست.
۴ گزینه‌های ۱ و ۳

۳۵ انسان تنها موجود زنده روی زمین نیست. (صحیح) - (غلط)

۳۶ با توجه به تقسیمات آب و هوایی شکل زیر را نام‌گذاری کنید.

- ۱- معتدل و مرطوب خزری
۲- معتدل و نیمه خشک کوهستانی
۳- گرم و خشک
۴- گرم و شرجی سواحل جنوب



۳۷ چند قله بلند در نواحی مرکزی ایران نام ببرید.

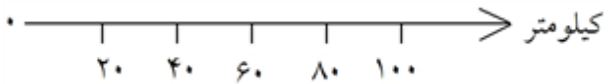
۳۸ شهردار هزینه خدمات خود را از چه راههایی به دست می‌آورد؟

- ۱ مالیات
- ۲ قبوض آب و برق و گاز
- ۳ عوارض نوسازی
- ۴ همه هزینه‌ها را دولت به عنوان بودجه در اختیار شهرداری قرار می‌دهد.

۳۹ جدول زیر را کامل کنید.

نام کوه یا رشته کوه	در کدام سمت ایران می‌باشد	یک استان نزدیک به آن کدام است	یک قلّه مهم آنرا بگویید
کوه‌های خراسان			بینالود
کوه‌های آذربایجان	در شمال غربی		
کوه‌های زاگرس		چهارمحال و بختیاری	

۴۰ اگر فاصله دو شهر لنگرود و رشت روی نقشه ۳ سانتی‌متر باشد، براساس مقیاس خطی زیر، این فاصله چند کیلومتر خواهد بود؟



۴۱ نقشه‌ها دارای هستند و هر کدام از آن‌ها به ما می‌دهند.

۴۲ این دعا از کدام امام است و در چه مورد بیان شده است؟
«خداوندا، راه‌های صحیح مصرف و اندازه نگه‌داشتن در معیشت را به من تعلیم فرما و به لطف خود مرا از تبذیر دور کن.»

۴۳ فعالیت‌های اقتصادی را می‌توان در طبقه‌بندی کرد.

- ۱ گروه ۲
- ۲ گروه ۳
- ۳ گروه ۴
- ۴ گروه ۵

۴۴ تولیدکنندگان به چه روش‌هایی می‌توانند کالای خود را تبلیغ کنند؟

۴۵ مؤسسات مختلف بیمه زیر نظر کدام نهاد فعالیت می‌کنند؟

- ۱ بیمه دانا
- ۲ بیمه مرکزی
- ۳ مجلس شورای اسلامی
- ۴ وزارت بهداشت

۴۶ قوانین و مقررات لازم را برای مؤسسات بیمه تدوین می‌کند.

- ۱ دولت
- ۲ سازمان هلال احمر
- ۳ بیمه مرکزی
- ۴ بیمه‌گذار

۴۷ کدام مورد از درباره هلال احمر درست نیست؟

- ۱ در هنگام وقوع حوادث به مجروحین کمک اولیه می‌رساند.
- ۲ چادرهای اسکان را در اختیار آسیب‌دیدگان می‌گذارد.
- ۳ در زمان شرایط عادی فعالیتی ندارد.
- ۴ پوشاک و موادخوراکی به جنگ‌زدگان می‌رساند.

۴۸ کدامیک از گزینه‌های زیر از حوادثی است که در ایران موجب همدلی و همدردی بین مردم شد؟

- ۱ حمله رژیم اشغال‌گر قدس به فلسطین
- ۲ جنگ تحمیلی عراق
- ۳ سیل استان گلستان
- ۴ گزینه ۲ و ۳

۴۹ قانون‌گذاری باید با توجه به چه مواردی صورت بگیرد؟

- ۱ نیازها و موضوعات مختلف جامعه
- ۲ دستورهای مذهبی و اخلاقی
- ۳ حفظ نظم
- ۴ گزینه ۱ و ۲

۵۰ برای این‌که در جامعه نظم برقرار شود و حقوق افراد حفظ شود، به وجود آمده است.

- ۱ مقررات و قوانین
- ۲ روابط اجتماعی
- ۳ حقوق متقابل
- ۴ مسئولیت

۵۱ کدامیک از واژه‌های زیر درست تعریف نشده است؟

- ۱ نیازهای مادی: به نیازهایی مانند پوشاک، خوراک، ابزار و وسایل زندگی نیازهای مادی می‌گویند.
- ۲ توان مالی: یعنی مقدار پولی که فرد می‌تواند برای خریدن وسایل موردنیاز خود بپردازد.
- ۳ تبعیض: رفتار نابرابر با افرادی که حقوق یکسان دارند.
- ۴ حقوق طبیعی: به نیازهایی چون محبت، احترام، همدلی، همکاری و کمال، نیازهای طبیعی می‌گویند.

۵۲ هر کدام از وظایف زیر به ترتیب از کدامیک از مسئولیت‌های ماست؟

(مقررات و نظم کلاس را رعایت کنم - برای آباد کردن محیط زندگی‌ام تلاش کنم - دروغ نگویم و غیبت نکنم - عبادت خداوند و شکر نعمت‌های او)

- ۱ محیط زندگی خود و عالم آفرینش - خودم - خودم - خداوند
- ۲ دیگران - دیگران - خداوند - خداوند
- ۳ دیگران - محیط زندگی خود و عالم آفرینش - خودم - خداوند
- ۴ دیگران - محیط زندگی خود و عالم آفرینش - دیگران - خداوند

۵۳ چه کسی حقوق طبیعی را برای انسان‌ها قائل شده و از چه زمانی؟

- ۱ خداوند - از تولد تا مرگ
- ۲ پیامبر اکرم - از آغاز اسلام
- ۳ قوانین یک کشور - از زمان گرفتن شناسنامه
- ۴ پدر و مادر - از تولد تا مرگ

۵۴ لیلا و حسن خواهر و برادر هستند. چه تفاوت‌هایی بین حقوق آن‌ها وجود دارد؟

۵۵ انسان در ابتدای خلقت و تولد دارای چه حقی می‌شود؟

- ۱ حقوق خانواده ۲ حقوق طبیعی ۳ حق زندگی ۴ حق تحصیل

۵۶ کتیبه‌های به جای مانده از دوره‌ی هخامنشیان در بیستون و تخت جمشید به زبان و با خط نوشته شده است.

۵۷ زبان ایرانیان در دوره‌های اسلامی بوده است.

۵۸ با تشکیل امپراتوری‌های بزرگ و تمرکز قدرت و ثروت در دست شاهان و شاهزادگان به تدریج در جامعه به وجود آمد.

۵۹ بعضی از منشیان و دبیران به چند زبان و خط آشنایی داشتند، چرا؟

۶۰ منشیان و دبیران کارهای و و را برعهده داشتند.

۶۱ قلمرو ایران در زمان کوروش از تا گسترش یافته بود.

۶۲ پایتخت دیاکو شهر بود.

۶۳ چگونه شد که مردم توانستند در مشاغلی غیر از کشاورزی مهارت پیدا کنند؟

۶۴ دوران زندگی بشر به چند دسته تقسیم می‌شود؟

۶۵ کدام گزینه از القاب امام رضا (ع) نمی‌باشد؟

- ۱ صادق ۲ صابر ۳ زکی ۴ فاضل

۶۶ امام هشتم شیعیان کیست؟

۶۷ مأمون وقتی دید امام رضا از او اطاعت نمی‌کند و پیروان آن حضرت زیاد شد، دستور داد تا امام را کنند و به شهادت برسانند.

۶۸ وقتی گردشگران به ناحیه‌ای سفر می‌کنند در آن ناحیه مختلفی ایجاد می‌شود.

۶۹ مواد شوینده به خاطر ترکیبات شیمیایی چه آب‌هایی را آلوده می‌کند؟

- ۱ زیرزمینی ۲ رودها ۳ دریاچه‌ها ۴ اقیانوس‌ها

۷۰ با دو مثال طریقه‌ی درست مصرف کردن آب در زندگی روزمره را شرح دهید.

۷۱ و موجب می‌شود خاک در اثر باد و باران به راحتی شسته شود.

۷۲ اگر تعداد افرادی که متولد می‌شوند، بیشتر از افرادی که می‌میرند باشد، جمعیت می‌یابد.

۷۳ کدام گزینه از گونه‌های گیاهی شناخته شده در ایران می‌باشد؟

۱ لاله‌ی واژگون- ارکیده ۲ سوسن چلچراغ- لاله‌ی وحشی

۳ سوسن چلچراغ- لاله‌ی واژگون ۴ لاله‌ی وحشی- ارکیده

۷۴ در ایستگاه‌های هواشناسی کدام‌یک از عناصر آب و هوایی اندازه‌گیری می‌شود؟

۷۵ پس از انتخاب نمایندگان در مجلس شورای اسلامی، نمایندگان چه وظیفه‌ای دارند؟

۱ تصویب قوانین ۲ تشکیل جلسه ۳ ادای سوگند ۴ پیشنهاد طرح

۷۶ اعتبار بیمه‌ی دانش‌آموزی چند سال است؟

۱ سه سال ۲ یک سال ۳ ده سال ۴ دو سال

۷۷ تخلف از قوانین و مقررات حقوق مصرف‌کنندگان چه پیامدهایی به دنبال دارد؟

۱ جریمه دارد ۲ مجازات می‌شوند ۳ گرانی ۴ گزینه‌های ۱ و ۲

۷۸ چگونه یک وسیله یا ماده، استاندارد اعلام می‌شود؟

۷۹ تولید به چند صورت انجام می‌گیرد؟

۸۰ دو نمونه از مقرراتی که ریشه در دستورات مذهبی و اخلاقی (هنجار دینی) دارند را بنویسید.

۸۱ زبان مردم در دوره‌ی ایران باستان:

- ۱- زبان پارسی باستان
- ۲- زبان پارسی میانه یا پهلوی
- ۳- زبان پارسی دری

۸۲ کدام گزینه از ابداعات ایران باستان می‌باشد؟

۱ شلوار ۲ چوگان ۳ آسیاب آبی ۴ همه‌ی موارد

۸۳ بیشترین حجم مالیات را چه کسانی می‌پرداختند؟

۱ پیشه‌وران ۲ بازرگانان ۳ دامداران ۴ کشاورزان

۸۴ کدام شاعر پارسی‌گو اوضاع نابرابر اجتماعی ساسانیان را در غالب شعر آورده است؟

- ۱ سعدی ۲ فردوسی ۳ حافظ ۴ مولوی

۸۵ اولین بار در زمان چه کسی مأموران مخفی برای شاهان ایران چشم و گوش شدند؟

- ۱ کوروش ۲ ۳ ۴

۸۶ از مراکز مهم گردشگری ایران در فصل زمستان به کدام ناحیه می‌توان اشاره کرد؟

۸۷ با استفاده از نقشه‌ی راه‌ها می‌توان حساب کرد چقدر تا جایی که می‌خواهید بروید فاصله دارد.

۸۸ کدام حوضه‌ی آبریز از رشته‌کوه البرز سرچشمه می‌گیرد؟

- ۱ حوضه‌ی آبریز داخلی ۲ حوضه‌ی آبریز دریای عمان
۳ حوضه‌ی آبریز خلیج فارس ۴ حوضه‌ی آبریز دریای خزر

۸۹ در ناحیه معتدل و مرطوب خزری، کشت برنج به چه آبی نیاز دارد؟

- ۱ باران ۲ دریا ۳ آبیاری ۴ لوله‌کشی

۹۰ استاندارد: یک کلمه انگلیسی به معنای نمونه قابل قبول. یعنی تولیدکننده هر کالایی، باید یک سری ویژگی‌هایی را برای تولید کالا رعایت کند.

۹۱ امروزه به کدام روش زباله از محیط زندگی انسان‌ها دفع می‌شود؟

- ۱ سوزاندن ۲ دفن کردن ۳ بازیافت ۴ همه‌ی موارد

۹۲ افراد در نقش‌های مختلف، مسئولیت‌های مختلفی دارند.

۹۳ فایده این‌که فردی تبعه‌ی یک کشور باشد، چیست؟

۹۴ جاده ابریشم از کدام کشور عبور می‌کرد؟

- ۱ ایران ۲ یونان ۳ ارمنستان ۴ تانزانیا

۹۵ کدام حکومت مانع ارتباط تجاری مستقیم بین چین و اروپا می‌شد؟

- ۱ هخامنشیان ۲ سلوکیان ۳ ساسانیان ۴ همه موارد

۹۶ حکومت ساسانی علاقه مند بود ابریشم چینی توسط بازرگانان کدام کشور به روم صادر شود؟

- ۱ چین ۲ ژاپن ۳ کره ۴ ایران

۹۷ درآمدهای حکومت‌های دوران باستان صرف چه چیزی می‌شد؟

- ۱ پرداخت حقوق‌ها ۲ جنگ ۳ مصارف شخصی شاه ۴ همه موارد

در ایران باستان نقش و تاثیر زیادی در زندگی فردی و اجتماعی داشته است .

- ۱) جامعه ۲) فرد ۳) تعلیمات مذهبی ۴) تعلیمات اجتماعی

پیامبر قوم آریایی که بود ؟

- ۱) حضرت عیسی ۲) حضرت موسی ۳) زردشت ۴) حضرت ابراهیم

در عصر باستان کدام رشته توسط هنرمندان و صنعتگران آثار بسیار زیبا و ظریفی را به وجود می آوردند ؟

- ۱) کاشی کاری ۲) حجاری ۳) چرم سازی ۴) همه موارد

۱ گزینه ۱ پاسخ صحیح است. نخستین حلقه از زنجیره غذایی را تولیدکنندگان (گیاهان سبز) و حلقه‌های بعدی را مصرف‌کنندگان (علفخواران و گوشتخواران) و حلقه‌های پایانی را تجزیه‌کنندگان (باکتری‌ها و مخمرها و...) تشکیل می‌دهند.

۲ گزینه ۴ پاسخ صحیح است.

۳ گزینه ۲ پاسخ صحیح است. پشت به معنی جشن و اوستا کتاب زردشتیان است. هرودوت هم تاریخ‌نگار یونانی است.

۴ گزینه ۳ پاسخ صحیح است. برخی بناها مانند کاخ، مساجد، کاروان‌سراها، و ... جزو میراث جهانی هستند. بعضی مکان‌ها طبیعی مانند کوه، غار، چشمه جزو میراث زیستی جهانی هستند. میراث فرهنگی همه آثار ارزشمندی است که به فرهنگ یک ملت مرتبط می‌شود مانند سکه، ظرف، بنا، آداب و رسوم و زبان.

۵ گزینه ۴ پاسخ صحیح است. در کشور ما، مرکز آمار ایران مسئولیت سرشماری جمعیت را به عهده دارد.

۶ گزینه‌ی ۳ پاسخ صحیح است.

۷ گزینه ۴ پاسخ صحیح است. روستاها توسط شورای اسلامی روستا و دهیار اداره می‌شوند و این افراد باتجربه و مورد اعتماد از طریق رأی مردم انتخاب می‌شوند.

۸ گزینه ۴ پاسخ صحیح است.

$$6 \text{ km} = 6000 \text{ m} = 600000 \text{ cm}$$

فاصله دو نقطه روی نقشه برابر است با:

$$\frac{1}{150000} = \frac{x}{600000} \Rightarrow x = \frac{600000}{150000} = 4 \text{ cm}$$

۹ گزینه ۴ پاسخ صحیح است. رشته‌کوه البرز است که هم‌چون دیواری دریای خزر را از نواحی مرکزی ایران جدا کرده است. همچنین قلّه تفتان از کوه‌های پراکنده ایران است که در استان سیستان و بلوچستان واقع شده است.

۱۰ گزینه ۴ پاسخ صحیح است. فاصله دو نقطه در واقعیت برابر است با:

$$2 \text{ cm} \times 250000 = 500000 \text{ cm} = 5000 \text{ m} = 5 \text{ km}$$

۱۱ گزینه ۲ پاسخ صحیح است. شخصی که با وجود سالم بودن گوشی‌های قبلی سه‌بار در یک سال اخیر گوشی تلفن خریده است، دچار مصرف‌گرایی شده است.

۱۲ گزینه ۳ پاسخ صحیح است.

۱۳ گزینه ۱ پاسخ صحیح است.

۱۴ گزینه ۴ پاسخ صحیح است. تابستان‌های بسیار گرم و زمستان‌های ملایم، مربوط به منطقه‌ی گرم و شرجی سواحل جنوب است.

۱۵ ایرانیان نخستین بار شلوار را طراحی کردند. شلوار و بالاپوش آستین‌دار و کلاه نمدی پوشاک اصلی مردان و شلوار و پیراهن بلند و روسری پوشاک زنان بوده است. (۱ نمره)

۱۶ صحیح است.

۱۷ چراغ روغن‌سوز سرامیکی - ریتون (تکوک) نقره‌ای

۱۸ کتیبه‌های به خط میخی متعلق به دوره هخامنشیان و کتیبه‌های به خط پهلوی متعلق به دوره اشکانیان و ساسانیان هستند.

۱۹ غلط است. در دوره اشکانیان و ساسانیان خط پهلوی رایج بوده است.

۲۰ زبان پارسی میانه یا پهلوی و خط پهلوی

۲۱ تغییرات زیادی در آن به وجود آوردند.

۲۲ غلط است. در زمان هخامنشیان، ایرانیان خط میخی را از اقوام بین‌النهرین اقتباس کردند.

۲۳ شواهد و مدارک جا مانده نشان می‌دهد که مردان و زنان ایران باستان به پوشش بدن اهمیت می‌دادند و از برهنگی اجتناب می‌کردند.

۲۴ غلط است. هرودوت نوشته است: ایرانیان به فرزندان خود سه چیز را آموزش می‌دهند. ۱- سوارکاری ۲- تیراندازی ۳- راست‌گویی

۲۵ در عهد باستان مردم شاد زیستن را یک موهبت الهی می‌دانستند.

۲۶ غلط است. برخی مورخان معتقدند که در دوره ایران باستان، بعضی مواد غذایی مانند روغن زیتون از یونان و ادویه از هند به ایران وارد می‌شده است.

۲۷ بازرگانان با داشتن پول می‌توانستند کالاهایی خریداری کنند و آن‌ها را به قیمت بالاتر بفروشند.

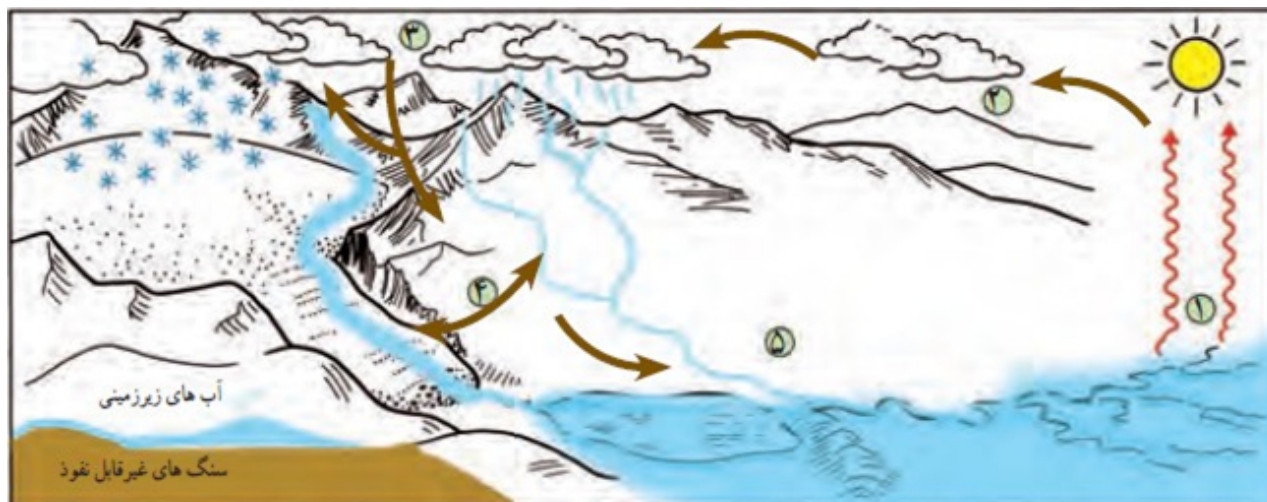
۲۸ ساسانیان

۲۹ لباس افراد سواره‌نظام فولادی بوده و اکثر آن‌ها نیزه داشته‌اند. صورت آن‌ها نیز با کلاه و خود پوشانده شده بود ابزار و سلاح‌هایشان روی اسب قرار می‌گرفته و اسب‌ها با زره محافظت می‌شدند. ولی افراد پیاده نظام لباس‌های سبک‌تر به تن داشته‌اند تا راحت‌تر فعالیت کنند. کفش آن‌ها نیز مناسب برای راه رفتن و دویدن بوده است. ابزار آن‌ها در دستان و روی دوششان قرار می‌گرفته.

۳۰ مقبره شاعران جزء میراث فرهنگی است.

۳۱ گزینه ۴ پاسخ صحیح است. مساجد و امامزاده‌ها جزء آثار فرهنگی مادی هستند.

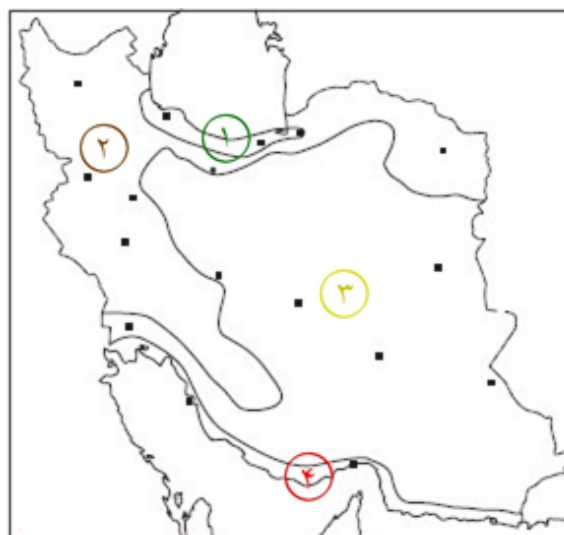
آبی که از سطح دریاچه‌ها و آّبگیرها و دریاها بخار شده است بالا رفته و در ارتفاعات تشکیل ابر می‌دهند. ابرها به صورت برف و باران ریزش می‌کنند و دوباره به زمین برمی‌گردند و برخی روی زمین جاری می‌شوند و به عنوان رود به دریا می‌ریزند و برخی در خاک نفوذ کرده و از طریق سفره‌های زیرزمینی به دریا می‌ریزند.



گزینه ۱ پاسخ صحیح است. ۳۳

گزینه ۱ پاسخ صحیح است. ۳۴

صحیح است. ۳۵

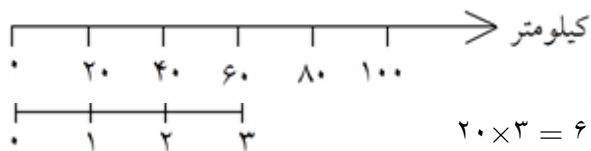


شیرکوه، کوه‌های کرکس، الوند، زردکوه ۳۷

گزینه ۳ پاسخ صحیح است. ۳۸

نام کوه یا رشته کوه	در کدام سمت ایران می‌باشد	یک استان نزدیک به آن کدام است	یک قلّه مهم آنرا بگویید
کوه‌های خراسان	شمال شرقی	مشهد	بینالود
کوه‌های آذربایجان	در شمال غربی	تبریز	سهند - سبلان
کوه‌های زاگرس	غرب	چهارمحال و بختیاری	دنا

از آن جایی که هر سانتی‌متر روی نقشه برابر ۲۰ کیلومتر روی زمین می‌باشد، پس باید طبق فرمول مقیاس آن را حل کرد.



فاصله این دو شهر ۶۰ کیلومتر می‌باشد.

۶۰ کیلومتر

۴۱ نقشه‌ها دارای انواع گوناگونی هستند و هر کدام از آن‌ها اطلاعات خاصی به ما می‌دهند.

۴۲ امام سجاد (ع) در صحیفه سجاده - نهی از اسراف کردن

۴۳ گزینه ۲ پاسخ صحیح است. فعالیت‌های اقتصادی در سه گروه خدمات، صنعت و کشاورزی طبقه‌بندی می‌شوند.

۴۴ اغلب واحدهای تولیدی از افراد یا مؤسساتی برای پخش محصولات خود در بازارهای مصرف دور و نزدیک کمک می‌گیرند.

۴۵ گزینه ۲ پاسخ صحیح است.

۴۶ گزینه ۳ پاسخ صحیح است.

۴۷ گزینه ۳ پاسخ صحیح است. هلال احمر در شرایط عادی برای صلح و دوستی و همچنین حفظ محیط زیست تلاش می‌کند.

۴۸ گزینه ۴ پاسخ صحیح است. مردم کشور ما در حوادث مختلف مثل جنگ تحمیلی عراق علیه ایران، زلزله بم، زلزله آذربایجان و سیل استان گلستان نشان دادند که روحیه همدلی و همیاری بسیار خوبی دارند.

۴۹ گزینه ۱ پاسخ صحیح است. گاهی مقررات به صورت دستورهای مذهبی و اخلاقی است ولی در اصل قانون‌گذاران با توجه به نیازها و موضوعات مختلف جامعه سعی می‌کند بهترین قوانین را وضع کنند.

۵۰ گزینه ۱ پاسخ صحیح است. برای این‌که در جامعه نظم برقرار شود و حقوق افراد حفظ شود مقررات و قوانین به وجود آمده است.

۵۱ گزینه ۴ پاسخ صحیح است. به نیازهایی چون محبت، احترام، همدلی، همکاری و کمال نیازهای معنوی می‌گویند.

۵۲ گزینه ۳ پاسخ صحیح است.

۵۳ گزینه ۱ پاسخ صحیح است. خداوند به دلیل مقام انسانی که برای همه انسان‌ها قائل است از ابتدای خلقت و تولد حقوق طبیعی را برای انسان قائل شده است.

۵۴ لیلا و حسن هر دو فرزندان یک خانواده هستند و هیچ تفاوتی نباید بین آن‌ها باشد و حقوق فرزندان به جنسیت آن‌ها بستگی ندارد.

۵۵ گزینه ۲ پاسخ صحیح است.

۵۶ پارسی باستان - میخی

۵۷ فارسی دری

۵۸ اختلاف طبقاتی

۵۹ زیرا قلمروی ایران بسیار وسیع بود و مردمان ایران با زبان‌ها و خطوط مختلف، در کنار هم زندگی می‌کردند و هم‌چنین برای برقراری روابط با کشورهای دیگر نیاز به آشنایی دبیران و منشیان با زبان‌ها و خطوط مختلف بود.

۶۰ اداری - مالی - نوشتن نامه‌ها

۶۱ خلیج فارس - دریای مدیترانه

۶۲ هگمتانه

۶۳ با رونق کشاورزی غذا به اندازه‌ی کافی تولید و ذخیره شد و دیگر همه‌ی افراد مجبور به کشاورزی نبودند در نتیجه عده‌ای در کارهای دیگر توانستند مهارت کسب کنند.

۶۴ ۳ مرحله: ۱- غارنشینی ۲- روستانشینی ۳- شهرنشینی

۶۵ گزینه‌ی ۱ پاسخ صحیح است.

۶۶ حضرت ابوالحسن علی بن موسی الرضا فرزند امام موسی کاظم (ع) که در سال ۱۴۸ ه.ق در مدینه متولد شدند.

۶۷ مسموم

۶۸ شغل‌های

۶۹ گزینه‌ی ۱ پاسخ صحیح است.

۷۰ الف- در موقع حمام کردن یا مسواک زدن، شیر آب را باز نگذاریم.

ب- شیرهای آب را همیشه بازدید و تعمیر کنیم تا چکه نکند.

۷۱ قطع بوته‌ها و کندن بوته‌ها موجب می‌شود خاک در اثر باد و باران به راحتی شسته شود.

۷۲ اگر تعداد افرادی که متولد می‌شوند، بیشتر از افرادی که می‌میرند باشد، جمعیت افزایش می‌یابد.

۷۳ گزینه‌ی ۳ پاسخ صحیح است.

۷۴ دمای هوا، میزان بارندگی، میزان رطوبت، جهت وزش باد، سرعت وزش باد

۷۵ گزینه‌ی ۳ پاسخ صحیح است.

۷۶ گزینه‌ی ۲ پاسخ صحیح است.

۷۷ گزینه‌ی ۴ پاسخ صحیح است.

۷۸ تولیدکنندگان وسیله یا ماده‌ای را که تولید کرده‌اند برای بررسی کیفیت به مؤسسه‌ی استاندارد می‌فرستند و آن‌ها با استفاده از ابزار لازم، وسایل و کالاهای را آزمایش می‌کنند، اگر کیفیت آن کالا تأیید شد، علامت استاندارد روی آن نصب می‌شود.

۷۹ الف- تولید کالا ب- تولید خدمات

۸۰ الف- هیچ‌کس نباید با کفش وارد نمازخانه یا مسجد شود.
ب- برای خواندن نماز بدن و لباس نمازگزار باید پاک باشد.

۸۱

۸۲ گزینه‌ی ۴ پاسخ صحیح است.

۸۳ گزینه‌ی ۴ پاسخ صحیح است.

۸۴ گزینه‌ی ۲ پاسخ صحیح است.

۸۵ گزینه‌ی ۴ پاسخ صحیح است.

۸۶ سواحل خلیج فارس و دریای عمان

۸۷ مقیاس

۸۸ گزینه‌ی ۴ پاسخ صحیح است.

۸۹ گزینه‌ی ۳ پاسخ صحیح است.

۹۰

۹۱ گزینه‌ی ۴ پاسخ صحیح است.

۹۲

۹۳ موجب می‌شود افراد حقوقی بر مبنای قوانین آن کشور داشته باشند.

۹۴ ایران

۹۵ ساسانیان

ایران ۹۶

همه موارد ۹۷

تعلیمات مذهبی ۹۸

زردشت ۹۹

همه موارد ۱۰۰

پاسخنامه کلیدی

۱	۱	۲	۳	۴
۲	۱	۲	۳	۴
۳	۱	۲	۳	۴
۴	۱	۲	۳	۴
۵	۱	۲	۳	۴
۶	۱	۲	۳	۴
۷	۱	۲	۳	۴
۸	۱	۲	۳	۴
۹	۱	۲	۳	۴
۱۰	۱	۲	۳	۴
۱۱	۱	۲	۳	۴
۱۲	۱	۲	۳	۴
۱۳	۱	۲	۳	۴
۱۴	۱	۲	۳	۴
۳۱	۱	۲	۳	۴
۳۳	۱	۲	۳	۴
۳۴	۱	۲	۳	۴
۳۸	۱	۲	۳	۴
۴۳	۱	۲	۳	۴
۴۵	۱	۲	۳	۴
۴۶	۱	۲	۳	۴
۴۷	۱	۲	۳	۴
۴۸	۱	۲	۳	۴
۴۹	۱	۲	۳	۴
۵۰	۱	۲	۳	۴
۵۱	۱	۲	۳	۴
۵۲	۱	۲	۳	۴
۵۳	۱	۲	۳	۴
۵۵	۱	۲	۳	۴
۶۵	۱	۲	۳	۴
۶۹	۱	۲	۳	۴
۷۳	۱	۲	۳	۴

۷۵	۱	۲	۳	۴
۷۶	۱	۲	۳	۴
۷۷	۱	۲	۳	۴
۸۲	۱	۲	۳	۴
۸۳	۱	۲	۳	۴
۸۴	۱	۲	۳	۴
۸۵	۱	۲	۳	۴
۸۸	۱	۲	۳	۴
۸۹	۱	۲	۳	۴
۹۱	۱	۲	۳	۴
۹۴	۱	۲	۳	۴
۹۵	۱	۲	۳	۴
۹۶	۱	۲	۳	۴
۹۷	۱	۲	۳	۴
۹۸	۱	۲	۳	۴
۹۹	۱	۲	۳	۴
۱۰۰	۱	۲	۳	۴